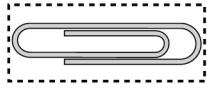


CISD Grade 2 Math Unit 14 SPANISH

Some questions (c) 2012 by CSCOPE.

**Special note to teacher:**


Have the students cut out the following items. They will use them to help answer the questions throughout the assessment.



paper clip

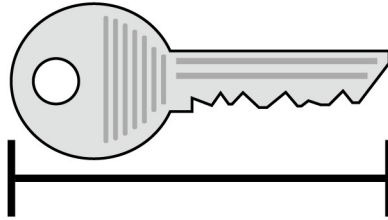


centimeter cube




square tile

- 1 Un clip pequeño mide aproximadamente 1 pulgada de largo. Usando el clip que te dieron, encuentra el largo de esta llave.



- A 2 pulgadas
- B 4 pulgadas
- C 6 pulgadas

- 2 Usando el cubo de papel de un centímetro que te dieron, encuentra el largo del pez.


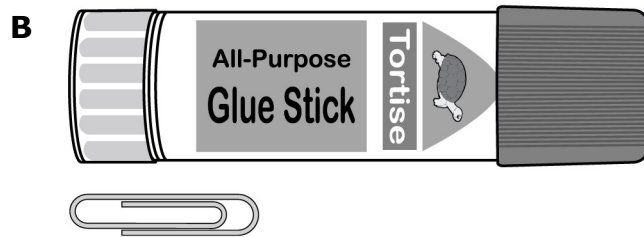
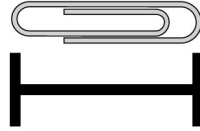


- F 1 centímetro
- G 4 centímetros
- H 7 centímetros


- 3 ¿Cuál de las siguientes opciones podría usarse para medir mejor la altura de la puerta del salón de clases?

- A Fichas de color (pulgadas)
- B Cubos de un centímetro (centímetros)
- C Regla que mide una yarda (3 reglas o 3 pies)

- 4 Si una regla mide un pie de largo, aproximadamente, ¿cuánto mide de largo la parte de arriba de tu escritorio?
- 5 Un clip mide aproximadamente 1 pulgada de largo. Selecciona el objeto que mide aproximadamente 2 pulgadas de largo.



6




Si 1 clip pequeño mide aproximadamente una pulgada, ¿cuál es el largo del pretzel?

**F** 2 clips

**G** 3 clips

**H** 6 clips

7 Ida encontró un insecto en una planta afuera. Usa la ficha cuadrada que te dieron para medir el largo de este insecto. ¿Cuál es el largo del insecto?

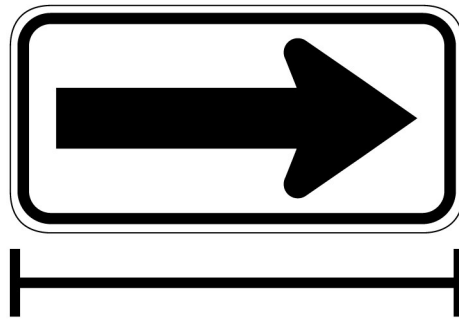


**A** 8 fichas cuadradas

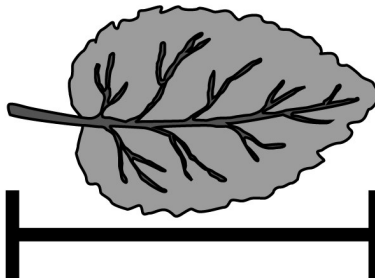
**B** 4 fichas cuadradas

**C** 1 fichas cuadradas

- 8 Stan dio vuelta a la derecha para llegar a la casa de su amigo. Usa el cubo de un centímetro provisto para medir el largo de esta señal de flecha. ¿Cuál es el largo de la señal de flecha?

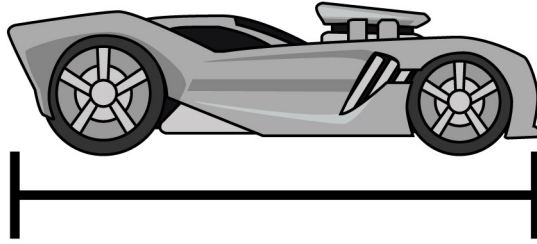


- F 6 cubos  
G 10 cubos  
H 13 cubos
- 9 Gina encontró muchas hojas diferentes en el parque. Usa el cubo de un centímetro para medir el largo de esta hoja. ¿Cuál es el largo de la hoja?



- A 2 cubos  
B 5 cubos  
C 9 cubos

- 10** Usa el cubo de un centímetro provisto para medir el largo del carrito de juguete.  
¿Cuál es el largo del carrito de juguete?



- F** 2 centímetros  
**G** 3 centímetros  
**H** 7 centímetros

---

A large empty rectangular area for writing the answer, defined by a horizontal line at the top and a vertical line on the left side.